

Pozdravljeni. Tretji teden je že za nami. Uspelo nam bo priti do konca. S pridnim delom se daleč pride.

PONEDELJEK, 6. 4. 2020

SLOVENSKI JEZIK

1. Preberi besedilo iz Berila

Berilo:

Michael Ende: Vse naše družine - B - 92, 93

2. Kaj pa tvoja družina, je tiha ali glasna ? O čem se najraje pogovarjate?
3. **Ilustriraj prizor v obliki stripa ali zaigrajte v družini: Družina se odpravlja na počitnice**

SLOVENSKI JEZIK

France Prešeren je imel rad otroke, ki jih je vedno razvajal. Tudi on jih je ime tri. Več o njih izveš iz besedila

1. Preberi besedilo **Moja mala kuharica v DZ2 na strani 8.**
2. Preveri svoje bralno razumevanje z nalogo 2.
3. **Nalogo 3** napiši v zvezek. S svojimi besedami razloži besede.

Gore slaščic:

Pestoval:

Doživela lepo starost:

4. Reši **nalogo 8**. Sledi zgledu in dopolni preglednico

MATEMATIKA

1. Danes boš računal v DZ z evri in centi.

Denar

DZ - 2 – stran 28, 29; naloga 1, 2, 3, 4

2. Utrjevanje snovi.

ŠPORT

1. Pojdi na potep v domišljiji. Razmigaj se s pomočjo joge:
<https://www.youtube.com/watch?v=640UXU8lqpE&feature=youtu.be&fbclid=IwAR0PQLYvmefH8n-rHBizgFN5fI09tPv-Uv8jSMLvtcSuCNuAjlqkjdsvTA>

<https://www.youtube.com/watch?v=rtC2qADkBuU>
2. Preskakovanje določene razdalje z mesta s sonožnim odzivom:
 - a) brisačo, vzglavnik, igračo, torbo, ...
 - b) jarek, poleno, palico, vedro...
3. Sprost se in zapleši ob glasbi.

<https://www.youtube.com/watch?v=RWB2W7XUPWs>

SPOZNAVANJE OKOLJA

**POJAVI
ČLOVEK IN
ZDRAVJE**

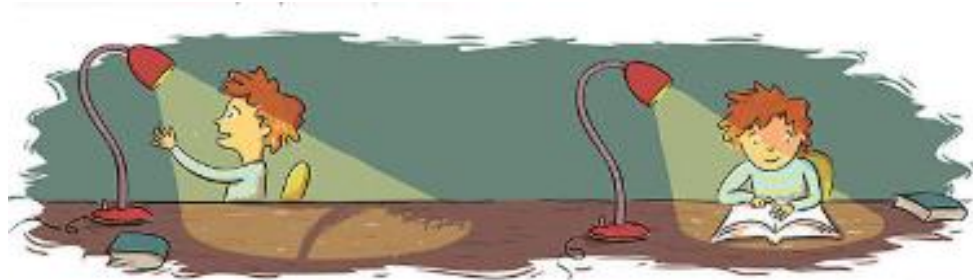
Vidim svetlobo

Reši v delovnem
zvezku
DZ - 22 / 42

Prepiši v zvezek

SVETLOBA

1. Svet okoli sebe vidiš, ker v tvoje oči prihaja svetloba. Osvetljene predmete in svetila vidiš
2. Vir svetlobe so svetila – nebesna telesa in predmeti, ki oddajajo svetlobo. To so Sonce in druge zvezde, razžarjeni predmeti, žarnice, sijalke, baklje in nekatere živali.
3. Svetloba se širi od svetila na vse strani. Širi se skozi prozorne snovi (zrak, voda, steklo) in skozi prazen prostor v vesolju.
4. Predmete, ki ne oddajajo lastne svetlobe, lahko vidiš, če se svetloba od njih odbija.
5. Predmeti del svetlobe vpijejo, zato se segrejejo, če so dolgo na soncu
6. Za osvetljenimi predmeti nastane senca.



V temni sobi vidiš lučko, če je prižgana in če gledaš vanjo.

V temni sobi vidiš knjigo, če je knjiga osvetljena in če gledaš vanjo.

7. Deli očesa.



TOREK, 7. 4. 2020

SLOVENSKI JEZIK

RAZLIČNI SMO – izvedel boš,

- Materni, prvi jezik
- Jezik okolja, drugi jezik
- Uradni jezik, državni jezik
- **DZ 2 - 9/20,21**
- **Naloge rešuj v DZ.**
- **V zvezek napiši naslov in datum.**
- **Prepiši besedilo, ki je v rdečem polju.**

ŠPORT

<https://www.youtube.com/watch?v=KqSgzszDeaU>

IGRE Z ŽOGO

Vzemi žogo in pojdi ven.

Vodi žogo z roko (tapkaj). 50 krat

Vrzi žogo v zrak in jo ujemi. 20 krat

Vrzi žogo v steno in jo ujemi. 20 krat

Žogo daj med kolena in skači. 20 krat

Žogo postavi na tla in jo preskoči. 20 krat

Postavi 5 kegljev (plastenke, igrače...), se postavi pet korakov stran, zakotali žogo in z njo podri keglje.

Kaj bi še lahko počel/a z žogo? Izberi sam/a. Če imaš družbo domačih, bo še zabavneje. Nikakor pa ne hodi na igrišča, kjer je več ljudi. Pazi nase!

[https://www.youtube.com > watch](https://www.youtube.com/watch)

MATEMATIKA

3. **Meta** je stara 8 let. Brat **Miha** je 4 leta starejši. Sestra **Ana** je dvakrat mlajša od Mete. **Oče** je petkrat starejši od Mete. **Mama** je dve leti mlajša od očeta.

Koliko so stari vsi **skupaj**?

Meta: **8 let**

Miha: 4 leta starejši od Mete **$8 + 4 = 12$**

Ana: dvakrat mlajša od Mete **$8 : 2 = 4$**

Oče: petkrat starejši od Mete **$8 * 5 = 40$**

Mama: 2 leti mlajša od očeta **$40 - 2 = 38$**

Skupaj?

$8 + 12 + 4 + 40 + 38 = 102$

O.: Vsi skupaj so stari 102 leti.

GLASBENA UMETNOST

1. NALOGA

Najprej prelistaj svoj glasbeni zvezek in ponovi kakšno od ljudskih pesmic, ki smo se jo naučili v šoli. Pogumno jo zapoj svoji sestrici, bratcu, mami ali očku. :)

Sedaj pa je čas, da se naučiš novo slovensko ljudsko pesmico. Ker nas zunaj razvajajo topli sončni žarki, se bomo naučili pesmico o soncu. :)

V zvezek lahko prilepiš ali prepíšeš besedilo pesmice in pesmico ilustriraš.

Pomagaj si s spodnjim besedilom in posnetkom.

Veselo prepevanje!

<https://www.youtube.com/watch?v=13LRgbw4ImQ>

Sijaj, sijaj sončece

Slovenska ljudska

The musical score is written in 2/4 time and consists of two staves. The first staff has three measures with chords C, F, and G. The second staff has four measures with chords d, G, G7, and C. The lyrics are provided below the notes.

1. Si - jaj, si - jaj son - če - ce, oj son - ce ru - me - no! Ka -
2. Son - ce zgo - daj go - ri gre, de - kle - ta jo - ka - jo: bi
3. Son - ce zgo - daj do - li gre, pa - stir - ci tar - na - jo: do -

ko bom pa si - ja - lo, k'sem ve - dno ža - lost - no?
ra - de še le - ža - le, pa vsta - ti mo - ra - jo.
mov bi ra - di gna - li, pa čre - de ni - ma - jo.

SREDA, 8. 4. 2020

SLOVENSKI JEZIK

1. Kdo je popotnik? Si kdaj bil/a tudi ti popotnik? Koga bi vzel/a s seboj? Kam vse lahko greš popotovat?
2. **Preberi pesem Kajetana Kovič: Popotnika najdeš v DZ2 na strani 8, 9.**
3. **Vzemi zvezek, napiši naslov Kajetan Kovič: Popotnika. Odgovore zapiši v zvezek**
4. Koliko kitic ima pesem? Koliko je verzov v vsaki kitici? V pesmici poišči rime.
5. Besede prepisi v zvezek in jim poišči rime. Sledi po vzgledu.
Mesto – cesto
Sin – mandarin
6. Pesmico večkrat preberi. Nariši.

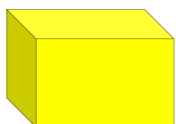
MATEMATIKA

Matematični problemi

DZ - 2 - 14/30,31

GEOMETRIJSKA TELESA - utrjevanje

1. Geometrijsko telo je del prostora, ki ga omejujejo mejne ploskve in ga lahko primemo. Poimenuj telesa.



KVADER




KOCKA



VALJ



STOŽEC



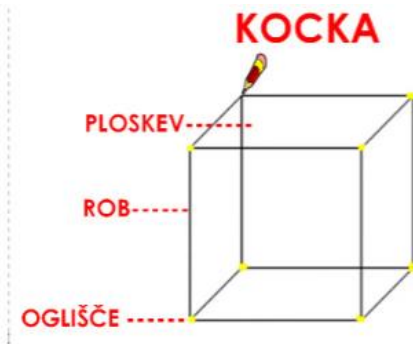
KROGLA

1. Mejne ploskve

- Mejne ploskve so lahko **ravne** ali **krive**.
- **Kvader** in **kocka** imata le **ravne** mejne ploskve.
- **Valj** in **stožec** imata **ravne** in **krive** mejne ploskve.
- **Krogla** ima le **krivo** mejno ploskev.

2. **Rob** nastane tam, kjer se **dve mejni ploskvi stikata**.

3. **Oglišče** nastane pri **stiku vsaj treh robov**.



	VALJ	KOCKA	KROGLA	KVADER
Število ploskev	3	6	1	6
Število robov	2	12	0	12
Število oglišč	0	8	0	8

SPOZNAVANJE OKOLJA

Vidim svetlobo – danes bo reševal/a naloge v DZ.

- Vidim
- Oko
- Optične iluzije

DZ - 22 / 43

LIKOVNA UMETNOST

KIPI

Kipi so lahko votli (imajo v sebi prazen prostor) ali polni. Prejšnji teden si tudi ustvarjal/a kip.

Votel kip:

Nariši kip, ki ga boš naredil. (marioneto)

Zdaj pa k ustvarjanju.

Pri tej nalogi boš:

- oblikoval/a kiparski volumen s sestavljanjem odpadnih materialov,
- razvijal/a svojo ustvarjalnost,
- razvijal/a spretnost rezanja, lepljenja, oblikovanja.

Pri nalogi ti mora pomagati odrasla oseba (luknjanje plastenke, zamaškov).

Pripravi svoj delovni prostor, škarje, lepilo.

Poišči: plastenko, zamaške ali druge odpadne materiale, vrvice, krpice, papir, volna...

Sledi zapisanim navodilom.

Likovna naloga:

- iz prazne plastenke izdeláš lutko – marioneto, ki jo vodiš in oživiš.

Marioneto lahko izdeláš po lastni zamisli.

Nekaj predlogov:



ČETRTEK, 9. 4. 2020

SLOVENSKI JEZIK

Pozdrav na razglednici

- bistveni podatki
- obvezni elementi zapisa
- **DZ 2 - 11/24,25**
- bistveni podatki
- obvezni elementi zapisa

Seznam - Kaj je na urniku

- Branje urnika
- Raba glavnih in vrstilnih števnikov
- **DZ 2 - 12/26,27**

UČENJE ZA PREVERJANJE

- (branje z razumevanjem, bistveni podatki, vabilo, čestitka ali voščilo, pozdrav na razglednici, osnovna pravopisna pravila)

MATEMATIKA

Zagotovo, mogoče, nemogoče

DZ - 2 - 15/32,33

SPOZNAVANJE OKOLJA

Preberi, uho nariši v zvezek.

Slišim zvok – rešuj v DZ

DZ - 23 / 44 – 1. naloga

Zvok

Zvok nastane ob tresenju predmetov. Predmete, ki ustvarjajo zvok, imenujemo zvočila. Zvočila so lahko skoraj vsi predmeti. Zvok se od zvočila širi na vse strani. Širi se le po snovi: zraku, vodi, kovini, lesu, betonu in drugih snoveh. Če pride zvok do ovire (na primer zidu), se del zvoka od nje odbije.

Kakšne zvoke oddajajo predmeti, živali in pojavi na slikah? Opiši jih.



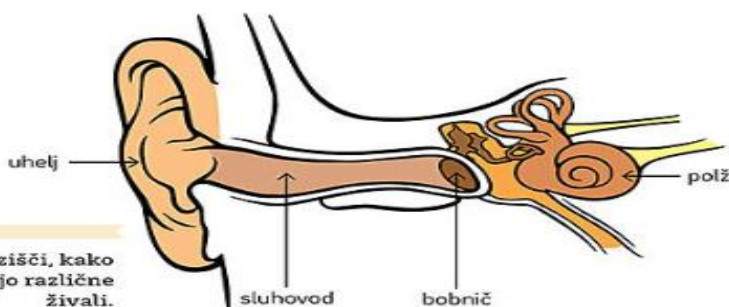
Zvok lahko ustvarimo z glasbili.



Zvok oddajajo različna orodja.



Zvoki nastajajo tudi v naravi.



Razišči, kako slišijo različne živali.

Uho

Ko pride zvok do tvojega uhlja, ga ta usmeri v sluhovod. Zvok po sluhovodu potuje v notranjost ušesa. Na koncu sluhovoda je bobnič. Preko njega se zvok prenese v zaviti del ušesa, ki se imenuje polž. Čeprav zvok zaznaš z ušesi, šele tvoji možgani ustvarijo zvočno podobo tega, kar slišiš.

Različne vrste zvokov

Zvoki so glasni ali tihi, visoki ali nizki, kratki ali dolgi. Triangel in flavta zvenita visoko, bas in pavke pa nizko. Zvoki glasbil večinoma zvenijo dlje časa kot traja pok biča ali petarde. Nekatere zvoke komaj slišimo, drugi so zelo glasni. Preglasni zvoki, na primer poslušanje hrupne glasbe, lahko poškodujejo sluh.

Violina zveni visoko.



Šepet je tih.



Pok rakete traja kratek čas.



Zapri oči in poslušaj zvoke iz okolice. Opiši jih.



Boben zveni nizko.



Letalski motorji so zelo glasni.



Zven gonga traja dolgo.

✦ Razreži balon in ga napni na vrh kozarca za vlaganje. Na balon stresi ščepec soli. Narahlo udari z ravnilom po kozarcu in opazuj sol. Ali »vidiš« zvok?

GLASBENA UMETNOST

Izvajanje po slikovnem zapisu: *Tri očesa en pogled* -
DZ 43



3. Poslušaj utrip srca. Posnemaj ga z gibi in zvoki glasbil.



4. Preberi uganko in jo reši. Uganko izrekaj v ritmu, ki ustreza bitju srca.

Niko Grafenauer:

Tri očesa en pogled,
pa ustavi ves promet.

To je _____



5. Izrekaj besedilo in ga izvajaj tako, kot nakazuje slikovni zapis.

zvok

gib



zvok zvok gib



Izmišljamo si melodijo za besedilo
Spremljava za besedilo

PETEK, 10. 4. 2020

SLOVENSKI JEZIK

Knjižni jezik

- Kje, kdaj govorimo knjižno, kdaj neknjižno
- Situacije, igra vlog
- **DZ 2 – stran 22**
- Knjižno, neknjižno
- Branje z razumevanjem
- Uporaba knjižnega izraza
- **DZ 2 – stran 22**

1. K vsaki povedi napiši ustrezen račun in izračunaj.

Piši v zvezek.

- a) Izračunaj zmnožek števil osem in pet. $8 \cdot 5 = 40$
- b) Število štiriindvajset deli s tri. $24 : 3 = 8$
- c) Izračunaj vsoto števil petdeset in petnajst. $50 + 15 = 65$
- d) Izračunaj razliko števil sedemindvajset in dvanajst. $27 - 12 = 15$
- e) Izračunaj količnik števil petdeset in pet. $50 : 5 = 10$
- f) Vsoto števil deset in osemnajst zmanjšaj za štiri. $10 + 18 - 4 = 24$
- g) Od števila šestdeset odštej zmnožek števil šest in nič. $60 - 6 \cdot 0 = 60 - 0 = 60$
- h) K zmnožku števil pet in štiri prištej devet. $5 \cdot 4 + 9 = 20 + 9 = 29$

2. V trgovini so dobili jogurte različnih okusov. V vsaki škatli jih je bilo 6. V tabeli so označili, koliko škatel posameznih okusov so dobili.

vrsta jogurta	število škatel
vanilijev	2
čokoladni	5
sadni	3



Koliko je bilo **vseh** jogurtov?

Vanilijev: $2 \cdot 6 = 12$

Čokoladni: $5 \cdot 6 = 30$

Sadni: $3 \cdot 6 = 18$

$12 + 30 + 18 = 60$

O.: Vseh jogurtov je bilo 60.

Danes je še lepo vreme, zato opravi naloge zunaj.

Pripravi: kolebnico ali vrv, elastiko ali gumitvist, meter

1. Tek s kolebnico (če nimaš kolebnice, samo teči) – 5 minut
Gimnastične vaje (razgibaj vrat, roke, pas, noge)
2. SKOKI
 - a) Dve kolebnici/vrvi/palici postavi dva koraka narazen in ju 10 krat preskoči.
 - b) Napni elastiko/gumitvist/vrvico tako visoko, da ti bo segala do kolen in jo 10 krat preskoči.
 - c) Postavi vrvico na tla pred seboj. Odrini se in skoči. Izmeri najboljši dosežek in mi ga sporoči.
3. Preskakuj kolebnico ali vrv. Kakšen je tvoj najboljši dosežek?



DODATNI POUK

Irska ljudska pravljica: Rdeča kokoška

Udobno se namesti ter poslušaj pravljico.

<https://radioprvi.rtvlo.si/2019/05/lahko-noc-otroci-1171/>

Poslušaj še lahko ostale pravljice na povezavi.

https://drive.google.com/file/d/12GHNqkN9Gy_gDKzEU8C4vwXANbjq6Aqz/view

O pravljicah se lahko pogovoriš s svojimi domačimi.